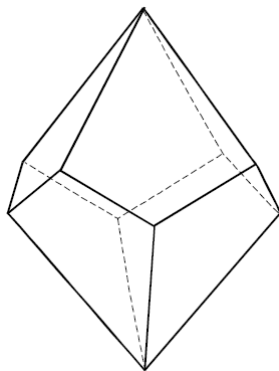


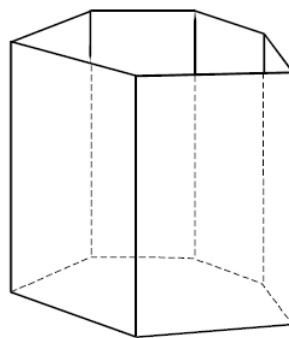
**Epreuve de Moyenne Durée n°1 – Durée : 2h**

**Questions de Cours (3 pts)**

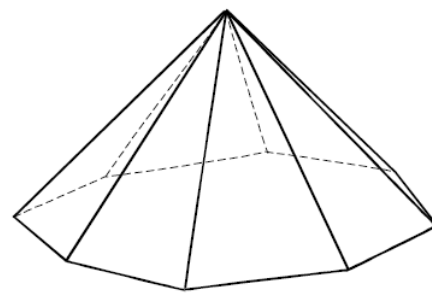
4.1. Pour chaque forme suivante, indiquez son nom complet. Le système cristallin de chaque forme est indiqué au dessous des figures.



Quadratique



Rhomboédrique



Quadratique

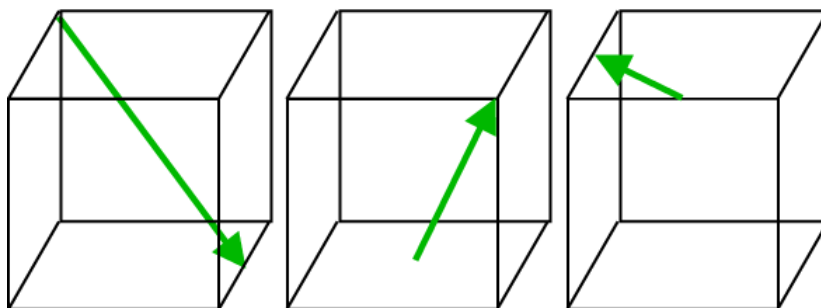
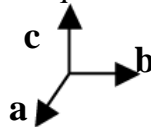
4.2. La sénarmontite est un minéral de formule chimique  $Sb_2O_3$  appartenant à la classe cristalline  $4/m \bar{3} 2/m$ .

A quel système cristallin elle appartient ? Où a-t-on découvert ce minéral ? Pourquoi l'a-t-on appelé Sénarmontite ?

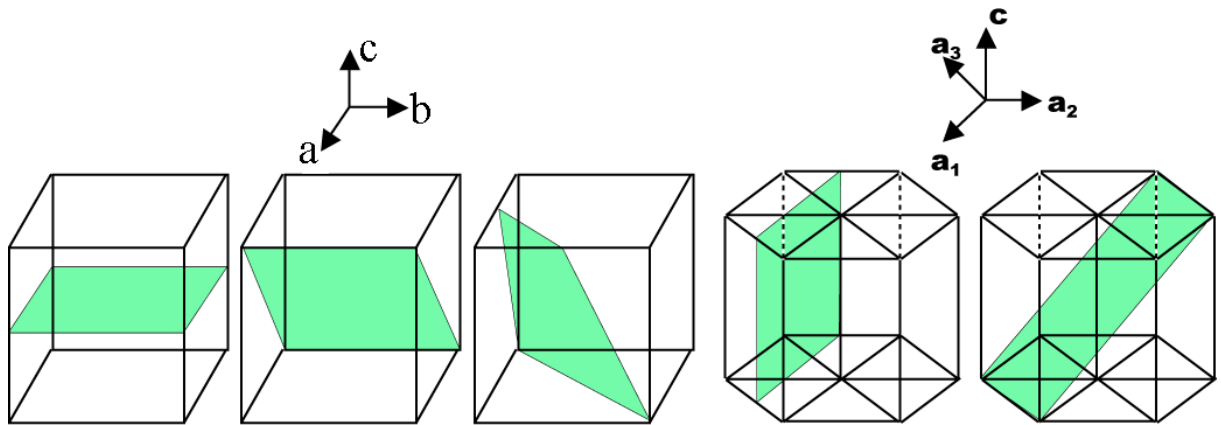
4.3. Donnez la définition d'un réseau (ou maille) à bases centrées. Est-ce que ce type de réseau peut exister chez les cristaux du système cubique ? Pourquoi ?

**Exercice 1 (6 pts)**

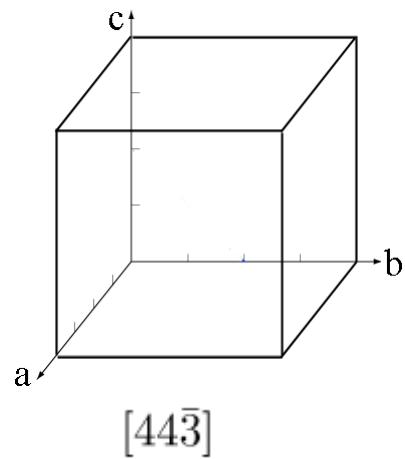
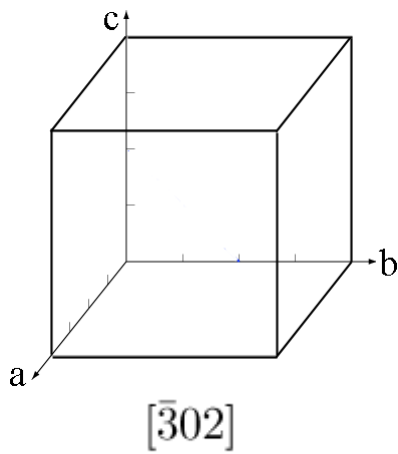
1.1. Donnez le symbole de la zone de chaque vecteur représenté sur les figures suivantes :



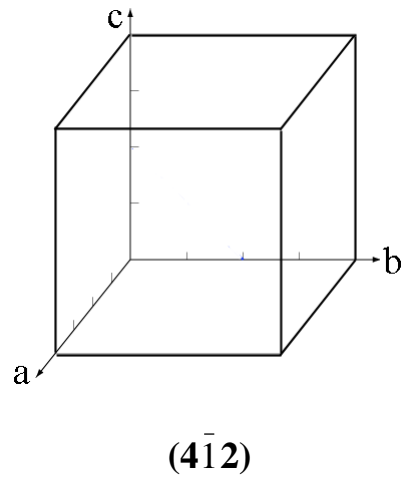
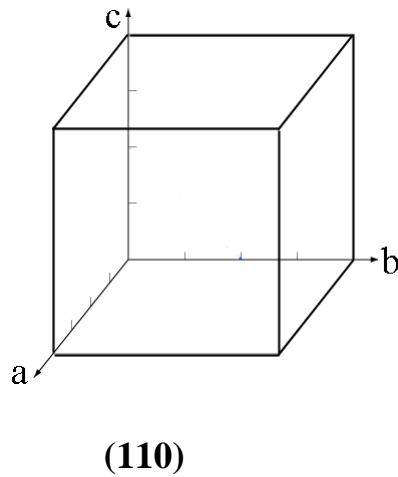
1.2. Déterminer les indices de Miller des plans représentés sur les figures suivantes :



1.3. Dessinez les directions cristallographiques suivantes (remarque : les directions doivent être représentées à l'intérieur des cubes) :

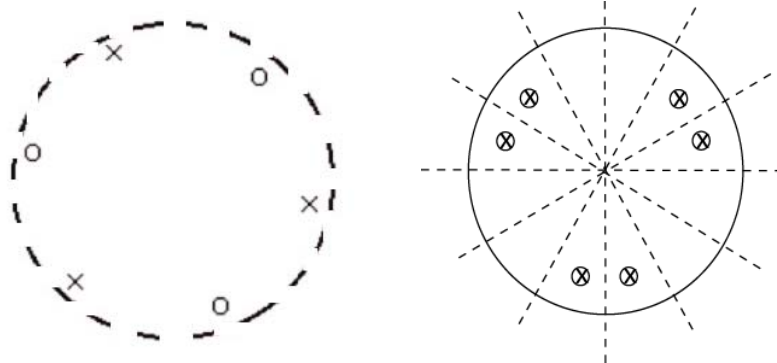


1.4. Représenter les plans d'indices de Miller suivants (remarque : les plans doivent être situés à l'intérieur des cubes)

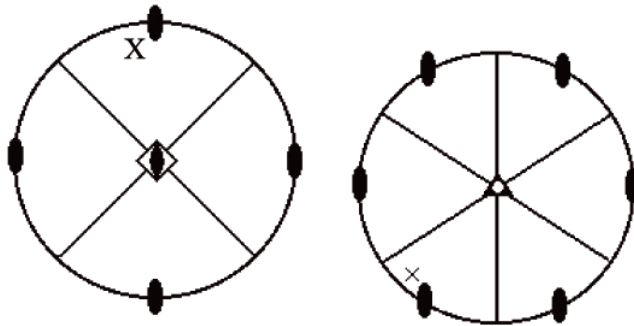


**Exercice 2 (5 pts)**

2.1. Pour chaque projection stéréographique suivante, représentez l'ensemble des éléments de symétrie nécessaires, donnez la notation d'Hermann-Mauguin et déterminez le système cristallin.

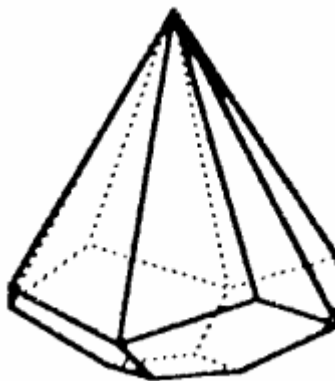


2.2. Pour chaque projection stéréographique suivante, représentez l'ensemble des pôles équivalents par symétrie, donnez la notation d'Hermann-Mauguin et déterminez le système cristallin.



**Exercice 3 (6 pts)**

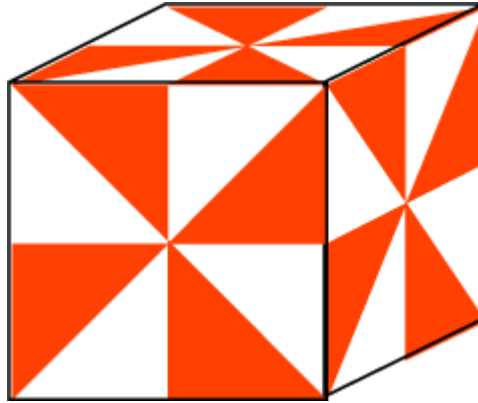
3.1. Soit le cristal de la figure suivante :



- (1) Déterminer les éléments de symétrie de ce cristal. En déduire la notation d'Hermann-Mauguin relative à ce minéral.
- (2) Représenter les éléments de symétrie sur la figure.
- (3) A quel système cristallin appartient-t-il ? Pourquoi ?

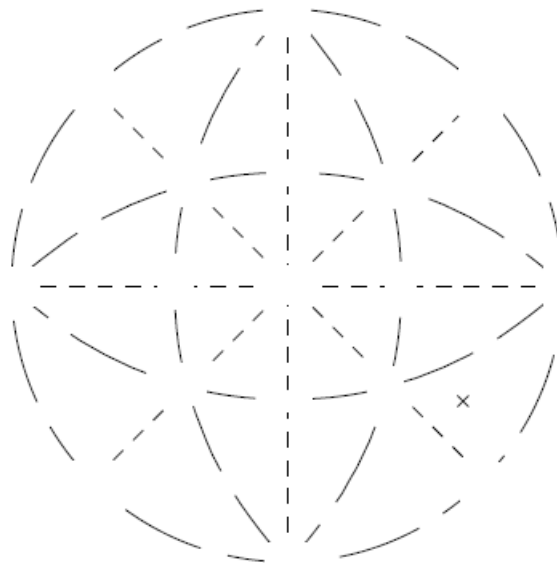
- (4) Dessiner la projection stéréographique des éléments de symétrie et des points équivalents par symétrie.
- (5) Déterminer l'ensemble des formes qui composent ce cristal. Donner leur symbole et l'ensemble des faces qui appartiennent à chaque forme.

3.2. Soit le cube peint représenté par la figure suivante.



(1) Indiquer la notation H-M de ce cube.

(2) Compléter la figure suivante (en représentant l'ensemble des éléments de symétrie et des points équivalents par symétrie du point représenté sur la projection stéréographique du cube peint précédent).



***Bonne Chance***  
***Dr Moulley Charaf Chabou***